

TEST č. 24 Označ všechny správné odpovědi na zadané otázky

1. V cyklistické zóně

- A) smějí cyklisté užívat vozovku v celé její šířce
 - B) musí cyklisté jezdit jen jednotlivě za sebou
 - C) musí cyklisté umožnit motorovým vozidlům jízdu
-

2. Řidič přijíždějící na křižovatku po vedlejší pozemní komunikaci

- A) musí dát přednost v jízdě vozidlům přijíždějícím po hlavní pozemní komunikaci
 - B) musí dát přednost v jízdě jezdcům na zvířatech přijíždějícím po hlavní pozemní komunikaci
 - C) musí dát přednost v organizované skupině chodců přicházejícím po hlavní pozemní komunikaci
-

3. Zastavit a stát řidič nesmí

- A) před poštou
 - B) na přejezdu pro cyklisty a ve vzdálenosti kratší než 5 m před ním
 - C) v nepřehledné zatačce a její těsné blízkosti
-

4. Cyklista

- A) nesmí jet bez držení řídítek
 - B) může jet bez držení řídítek mimo obec
 - C) musí mít za jízdy nohy na šlapadlech
-

5. Osoba, která vede jízdní kolo

- A) je řidič
 - B) je chodec
 - C) je cyklista
-

6. Možnost nehody výrazně snižuje

- A) rychlá jízda
 - B) prudké brzdění
 - C) jízda podle pravidel silničního provozu
-

7. Zadní odrazka červené barvy

- A) může být kombinována se zadní svítilnou vyzařující světlo červené barvy
- B) nesmí být kombinována s žádnou svítilnou
- C) může být kombinována se zadní odrazkou bílé barvy

8. Tento pokyn policisty znamená

- A) „Stůj!“ pro řidiče přijíždějící k jeho čelu
- B) „Stůj!“ pro řidiče přijíždějící k jeho zádům
- C) „Pozor!“ pro všechny řidiče

**9. Do prostoru zastávky smí v této situaci řidič vjíždět**

- A) ano
- B) ne
- C) nevím

**10. Tato dopravní značka upozorňuje**

- A) na nerovnost vozovky
- B) na úsek častých nehod
- C) na nebezpečnou krajnici

**11. Dopravní značka označuje**

- A) hlavní pozemní komunikaci
- B) konec hlavní pozemní komunikace
- C) vedlejší pozemní komunikaci

**12. Dopravní značka**

- A) označuje kilometrovník
- B) vyjadřuje doporučenou rychlost v km.h⁻¹
- C) předem upozorňuje na snížení rychlosti

**13. Která dopravní značka označuje konec stezky pro cyklisty?**

A



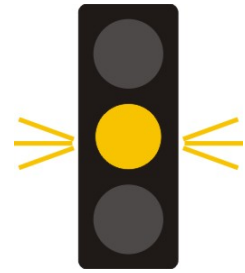
B



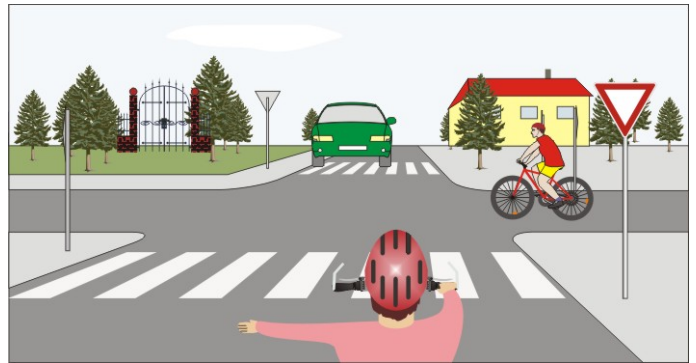
C

14. Žluté světlo svítí přerušovaně a to znamená

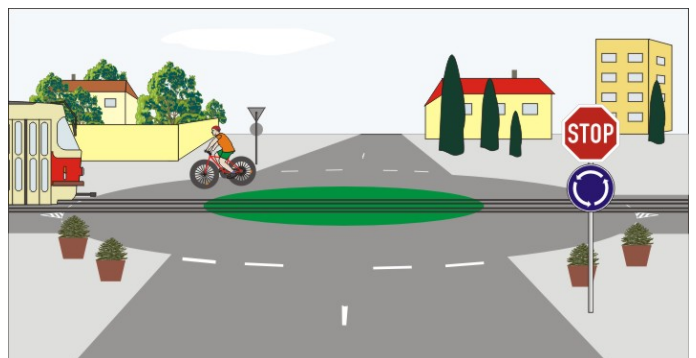
- A) že řidič smí pokračovat v jízdě pouze v přímém směru
- B) že řidič musí zastavit vozidlo
- C) že křižovatka není řízená světelnými signály

**15. Cyklista z výhledu:**

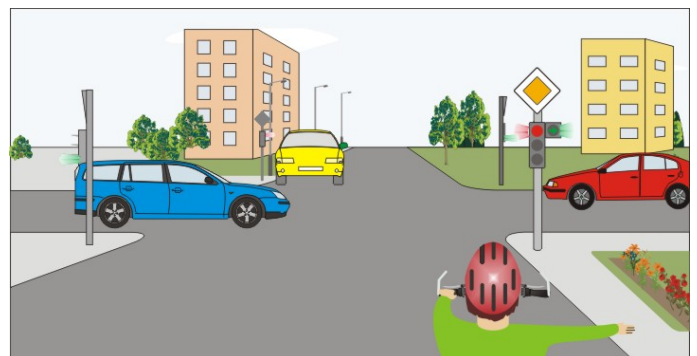
- A) dává přednost cyklistovi přijíždějícímu zprava
- B) má přednost před zeleným vozidlem
- C) projede křižovatkou jako poslední

**16. Na kruhovém objezdu:**

- A) má přednost v jízdě cyklista
- B) má přednost v jízdě tramvaj
- C) není přednost v jízdě upravena

**17. Cyklista:**

- A) projede křižovatkou jako druhý
- B) musí dát přednost modrému vozidlu jedoucímu ve volném směru
- C) musí dát přednost žlutému vozidlu

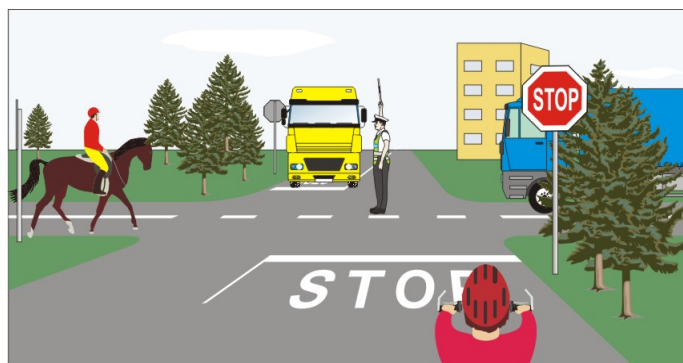


18. Vozidla projedou v pořadí:

- A) 1. modré současně s cyklistou, 2. žluté
- B) 1. žluté, 2. cyklista, 3. modré
- C) 1. modré současně se žlutým, 2. cyklista

**19. Pokyn policisty znamená:**

- A) „Volno“ pro modré vozidlo a jezdce na zvířeti
- B) „Pozor!“ pro všechny řidiče
- C) „Pozor!“ pouze pro cyklistu

**20. Cyklista:**

- A) přijíždí na křižovatku, kde není přednost v jízdě upravena dopravními značkami
- B) dává přednost žlutému vozidlu
- C) projede křižovatkou jako první současně s modrým vozidlem

