

## TEST č. 10      Označ všechny správné odpovědi na zadané otázky

### 1. Při odbočování vlevo musí dát řidič přednost v jízdě

- A) protijedoucím motorovým vozidlům
  - B) pouze tramvajím jedoucím v obou směrech
  - C) protijedoucímu jezdcí na zvířeti
- 

### 2. Řidič nesmí otáčet a couvat

- A) na přechodu pro chodce
  - B) na železničním přejezdu a v jeho těsné blízkosti
  - C) na přejezdu pro cyklisty
- 

### 3. Použit za jízdy ochrannou přilbu musí

- A) cyklista od 18 let
  - B) každý cyklista
  - C) cyklista mladší 18 let
- 

### 4. Znamení o změně směru jízdy musí řidič dávat

- A) podle svého uvážení
  - B) vždy při změně směru jízdy
  - C) jen pokud to vyžaduje situace v provozu
- 

### 5. „Řidič“

- A) je ten, kdo řídí motorové vozidlo
  - B) je ten, kdo řídí nemotorové vozidlo
  - C) je ten, kdo jede na zvířeti
- 

### 6. Správné nahuštění pneumatik

- A) je pro jízdu důležité
  - B) je důležité jen pro jízdu v terénu
  - C) není vůbec důležité
- 

### 7. Jízdní kolo musí být vybaveno

- A) nejméně dvěma zadními odrazkami červené barvy
- B) zadní odrazkou červené barvy
- C) zadní odrazkou bílé barvy

**8. Tento pokyn policisty znamená „Stůj!“**

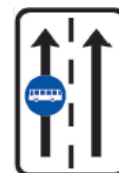
- A) pro řidiče přijíždějící k jeho levému boku
- B) pro řidiče přijíždějící k jeho zádům
- C) pro řidiče přijíždějící k jeho čelu

**9. Na tuto pozemní komunikaci cyklisté smějí vjíždět**

- A) ano
- B) ne
- C) nevím

**10. Dopravní značka**

- A) označuje vyhrazený jízdní pruh (pro autobusy)
- B) zakazuje jízdu autobusů v levém jízdním pruhu
- C) doporučuje řidičům autobusů užít levý jízdní pruh

**11. Dopravní značka upozorňuje**

- A) na železniční přejezd bez závor
- B) na blízkost železniční stanice
- C) na železniční přejezd se závorami

**12. Nápisu na dopravní značce**

- A) cyklista nemusí uposlechnout
- B) cyklista uposlechně, jen vyžadují-li to okolnosti
- C) cyklista musí uposlechnout

**13. Která dopravní značka vyznačuje přejezd pro cyklisty přimknutý k přechodu pro chodce?**

A



B



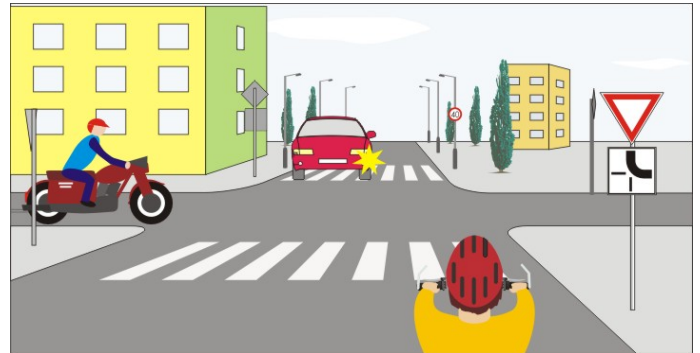
C

**14. Rozsvícený signál znamená**

- A) „Stůj!“ pro řidiče odbočující vlevo
- B) „Pozor!“ pro všechny řidiče
- C) připravit se k jízdě vlevo

**15. Cyklista:**

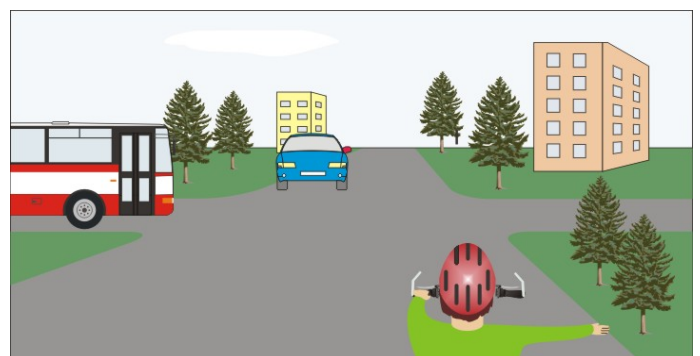
- A) má přednost v jízdě před motocyklem
- B) dává přednost motocyklu
- C) dává přednost červenému vozidlu

**16. Jako první projede křižovatkou:**

- A) cyklista
- B) žluté osobní vozidlo
- C) modré nákladní vozidlo

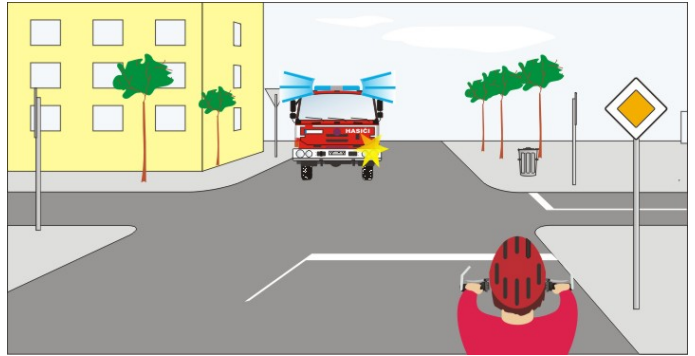
**17. Vozidla projedou křižovatkou v pořadí:**

- A) 1. modré vozidlo, 2. autobus, 3. cyklista
- B) 1. cyklista, 2. autobus, 3. modré vozidlo
- C) 1. autobus, 2. cyklista a modré vozidlo současně

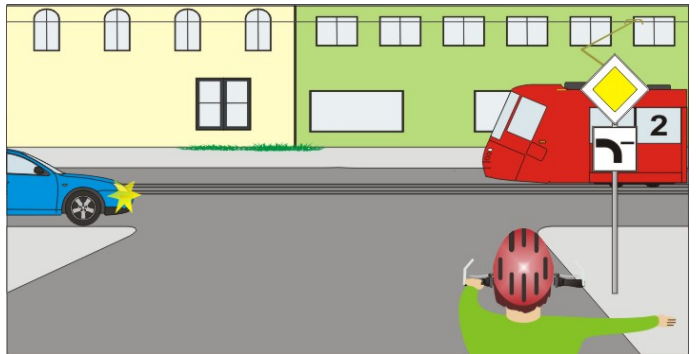


**18. Cyklista:**

- A) projede křižovatkou jako první
- B) dává přednost vozidlu hasičů
- C) nesmí vjíždět do křižovatky

**19. Vozidla projedou křižovatkou:**

- A) 1. modré, 2. tramvaj, 3. cyklista
- B) 1. všechna současně
- C) 1. cyklista, 2. tramvaj a modré současně

**20. Cyklista:**

- A) nemůže projet křižovatku
- B) může projet křižovatku
- C) může pouze odbočit vpravo

